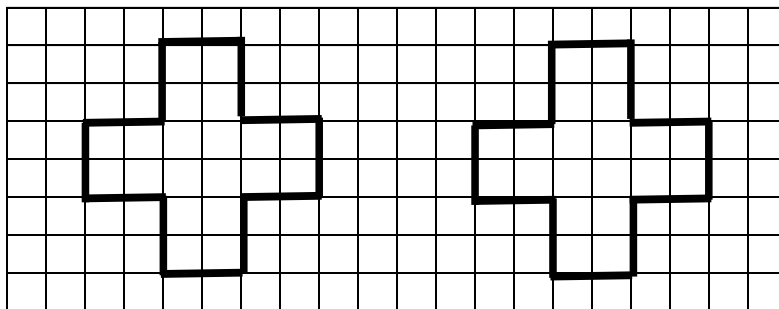
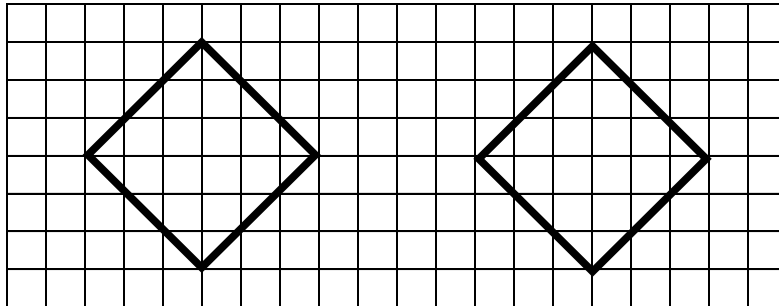


1.2 In gleich große Stücke teilen


Aufgabe 1:

Teile die Figuren auf unterschiedliche Weise in zwei Hälften.
Male eine Hälfte farbig an.



Aufgabe 2:

In wie viele Teile wurde die Pizza geteilt?
Verbinde.
Achtung! Ein Begriff bleibt übrig.



Halbe

Viertel


Sechstel


Achtel

1.2 In gleich große Stücke teilen

Aufgabe 3:

Eine Schokolade wurde geteilt.
 Setze ein: 20 Teile, 2 Teile, 5 Teile.
 Teile die letzte Schokolade in 4 Teile.









_____ 4 Teile

Aufgabe 4:

Fülle die Tabelle aus.
 Die Wortkarten unter der Tabelle helfen dir.
 Achtung! Ein Begriff bleibt übrig.

Anzahl der Teile	Name der Teile
Zwei Teile	
	Drittel
Vier Teile	
Fünf Teile	
	Zehntel

Zehn Teile

Fünftel

Halbe

Siebtel

Viertel

Drei Teile